

SEMED - Secretaria Municipal de Educação de Itajubá


**ATIVIDADES**

1.  A MÃE DE LÍVIA COMPROU NA FEIRA ABÓBORA E COCO PARA FAZER UM DOCE. ELA COLOCOU OS INGREDIENTES EM CIMA DA MESA DA COZINHA.





-  VEJA A RECEITA DE DOCE DE ABÓBORA QUE A MÃE DE LÍVIA FAZ:


<b>DOCE DE ABÓBORA</b>
<b>INGREDIENTES</b>
• 6 XÍCARAS DE CHÁ DE AÇÚCAR
• 2 XÍCARAS DE CHÁ DE COCO RALADO
• 1 COPO MÉDIO DE ÁGUA
• 2 QUILOS DE ABÓBORA PICADA


 O QUE A MÃE DE LÍVIA USOU PARA MEDIR OS INGREDIENTES DESSA RECEITA?


- A -  FITA MÉTRICA, COPO E XÍCARA.
- B -  BALANÇA, COPO E XÍCARA.
- C -  RÉGUA, BALANÇA E XÍCARA.
- D -  GARRAFA, COPO E XÍCARA.


2.  RICARDO TRABALHA NA LANCHONETE DO PARQUE. ELE UTILIZA 4 LARANJAS PARA FAZER UM COPO DE SUCO.










3.  PINTE ABAIXO APENAS AS LARANJAS QUE RICARDO VAI USAR PARA FAZER 3 COPOS DESSE SUCO.



3.  NO JOGO CARTAMANIA, VENCE QUEM TIRA A CARTA COM O NÚMERO MAIOR. MARQUE COM UM X A CARTA DO VENCEDOR EM CADA JOGADA.




4.  O PROFESSOR FEZ UMA PESQUISA NA CLASSE PARA SABER QUAL É TIPO DE FILME PREFERIDO PELOS ALUNOS. CADA ALUNO SÓ PODE ESCOLHER UM TEMA.

PREFERÊNCIAS DA CLASSE		
FILMES	MENINOS 	MENINAS 
 AVENTURA	7	5
 MONSTROS	3	2
 PRÍNCIPES E PRINCESAS	2	5
 VIAGENS	4	4

-  OLHE PARA A TABELA E RESPONDA: QUE TIPO DE FILME FOI ESCOLHIDO PELO MESMO NÚMERO DE MENINAS E DE MENINOS?

- A -  AVENTURA
- B -  MONSTROS
- C -  PRÍNCIPES E PRINCESAS
- D -  VIAGENS


5.  PAULA ESCREVEU EM CARTÕES O NÚMERO QUE INDICA A IDADE DE CADA PESSOA DE SUA FAMÍLIA. LIGUE AS PESSOAS AOS CARTÕES CORRESPONDENTES À IDADE DE CADA UMA.

JOÃO  
QUARENTA E  
TRÊS ANOS

FÁBIA  
QUARENTA E  
OITO ANOS

MÁRIO  
DEZOITO  
ANOS

BEATRIZ  
VINTE E CINCO  
ANOS



28

34

18

43


8


25

35

48

6.  TOMÁS E TELMA ESTÃO OBSERVANDO UM LIVRO NA LIVRARIA.



-  SE TOMÁS VIRAR A PÁGINA 33, QUAIS SERÃO OS NÚMEROS DAS PRÓXIMAS DUAS PÁGINAS? MARQUE UM X NO QUADRINHO.

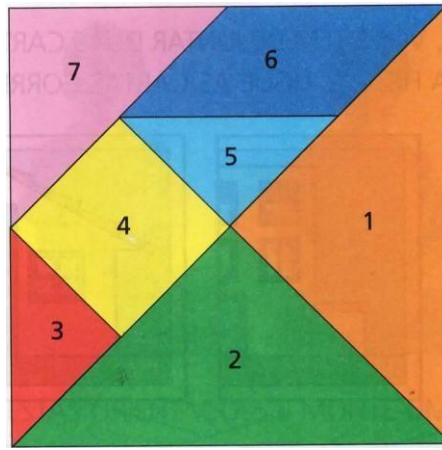
A –  32 E 33

B –  33 E 35

C –  33 E 34

D –  34 E 35

7.  JUNTANDO AS PEÇAS DO TANGRAM É POSSÍVEL REPRESENTAR UM QUADRADO.



 QUAIS SÃO OS NÚMEROS DO TANGRAM QUE REPRESENTAM TRIÂNGULOS? MARQUE COM UM **X** NA RESPOSTA CORRETA.

- A –  1 - 2 - 3 - 5 - 7
- B –  1 - 2 - 4 - 5 - 6
- C –  2 - 3 - 4 - 6 - 7
- D –  3 - 4 - 5 - 6 - 7

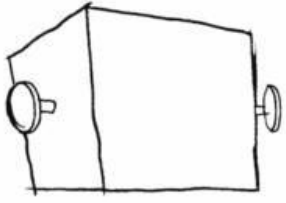
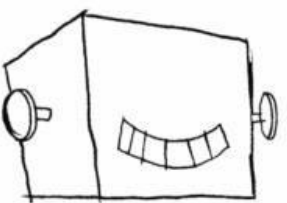

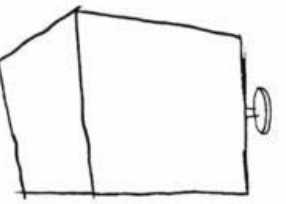



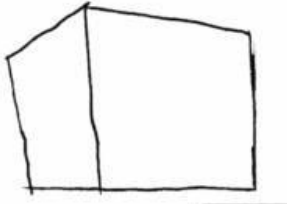
8.  OUÇA O TEXTO QUE EU VOU LER



 MARQUE COM X A QUANTIDADE DE LARANJAS QUE A MÃE DE LIA TERÁ DE COMPRAR NA FEIRA.

- A –  1 LARANJA
- B –  2 LARANJAS
- C –  6 LARANJAS
- D –  8 LARANJAS

9.  NUMERE OS QUADROS NA ORDEM EM QUE EDU DESENHOU ESTA FIGURA.

 <input type="text"/>	 <input type="text"/>	 <input type="text"/>
 <input type="text"/>	 <input type="text"/>	
 <input type="text"/>	 <input type="text"/>	

10.  VEJA QUANTO EDINHO TEM.



Ilustra Cartoon



Fotografias: Agência Brasil

ASSINALE COM UM X OS BRINQUEDOS QUE ELE PODE COMPRAR.

 Stockexpert/Image Plus	 Rita Barreto	 Stockexpert/Image Plus	 Stockexpert/Image Plus
<b>25 REAIS</b> <input type="checkbox"/>	<b>20 REAIS</b> <input type="checkbox"/>	<b>25 REAIS</b> <input type="checkbox"/>	<b>3 REAIS</b> <input type="checkbox"/>