

Escola: _____

Nome: _____

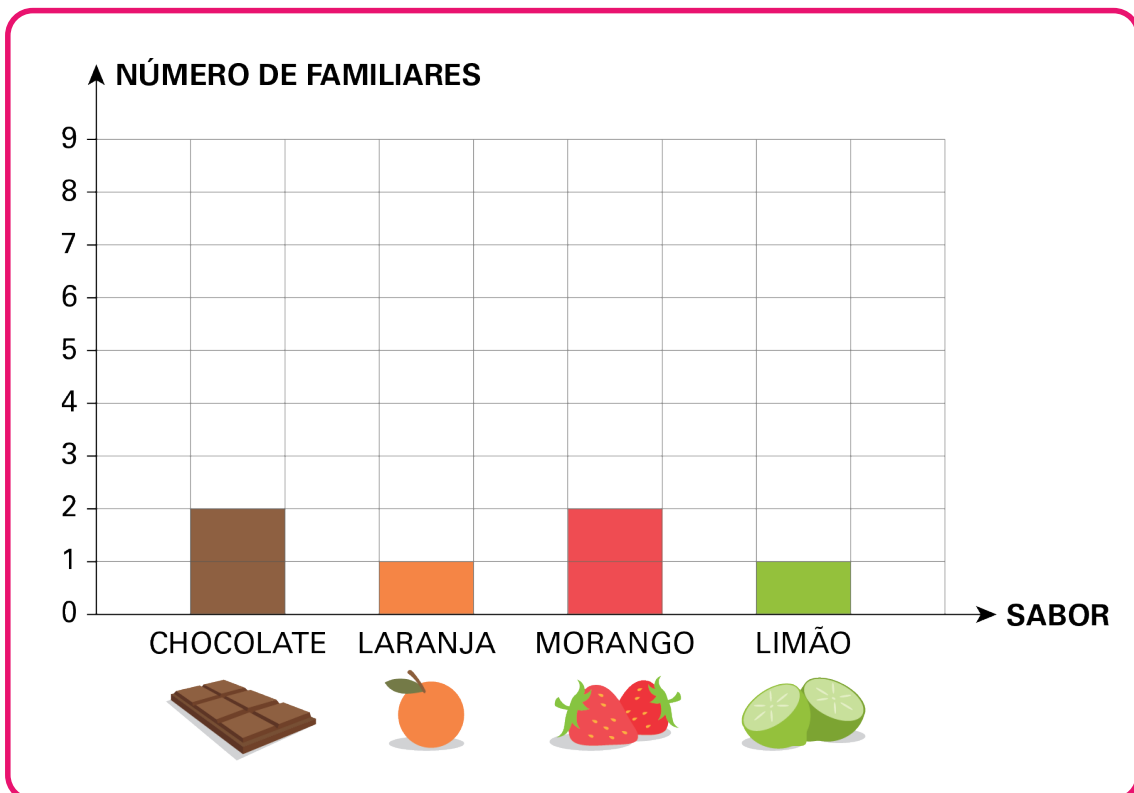
Turma: _____ Nº: _____

1. JÚLIA FEZ UMA PESQUISA COM OS FAMILIARES PARA DESCOBRIR O SABOR DE BOLO PREFERIDO DELES. VEJA AS RESPOSTAS QUE ELA COLETOU.

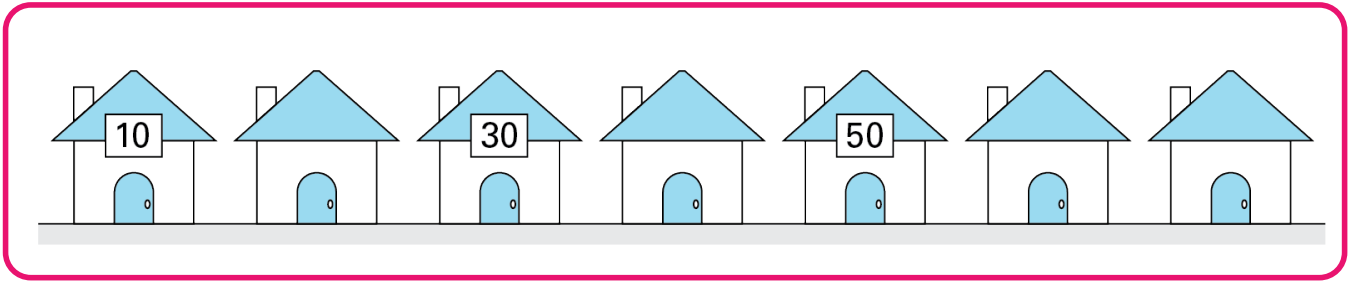
- BOLO DE CHOCOLATE: 8 FAMILIARES.
- BOLO DE LARANJA: 4 FAMILIARES.
- BOLO DE MORANGO: 5 FAMILIARES.
- BOLO DE LIMÃO: 2 FAMILIARES.

AJUDE JÚLIA A COMPLETAR O GRÁFICO COM A PREFERÊNCIA DOS FAMILIARES.

SABOR DE BOLO PREFERIDO DA FAMÍLIA DE JÚLIA



2. OBSERVE AS CASAS ABAIXO.



ELAS SÃO NUMERADAS DE 10 EM 10, MAS ALGUMAS CASAS AINDA NÃO RECEBERAM AS PLAQUINHAS COM O NÚMERO.

A CASA DA MARIANA É A DE NÚMERO 40. PINTE SOMENTE A CASA DELA.

3. CONSIDERE AS SEQUÊNCIAS.

1	2	3	4	☆	6
---	---	---	---	---	---

31	32	♥	34	35	36	37	38	39	40
----	----	---	----	----	----	----	----	----	----

11	12	13	14	15	16	17	18	19	☀	21	22
----	----	----	----	----	----	----	----	----	---	----	----

AGORA, ESCREVA QUANTO VALEM OS SÍMBOLOS A SEGUIR.



.....

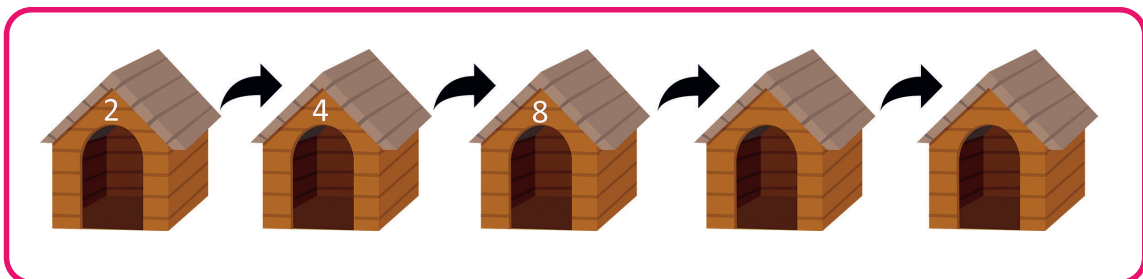


.....



.....

4. JOAQUIM ESTÁ NUMERANDO AS CASINHAS DE CACHORRO EM UM ABRIGO PARA ANIMAIS SEGUINDO UMA SEQUÊNCIA. O NÚMERO DE CADA CASA É O DOBRO DO NÚMERO ANTERIOR. VEJA AS CASINHAS QUE ELE JÁ NUMEROU.



PIXABAY/PIXABAY.COM

QUAIS NÚMEROS JOAQUIM VAI USAR NAS 2 PRÓXIMAS CASINHAS?

.....

.....

.....

5. PATRÍCIA TEM 3 GATINHOS. A **LOLA** TEM 2 ANOS, **FLOQUINHO** TEM O DOBRO DA IDADE DE LOLA E **GATUCHA**, A MAIS VELHA, TEM O TRIPLO DA IDADE DE FLOQUINHO.

QUAL É A IDADE DE FLOQUINHO E DE GATUCHA?

.....


.....

.....

.....

6. OBSERVE OS GRUPOS DE ANIMAIS A SEGUIR E RESPONDA.

A)



COPIE O NOME DO ANIMAL MAIS LEVE.

.....

B)



COPIE O NOME DO ANIMAL MAIS PESADO.

.....

7. CAMILA FAZ ANIVERSÁRIO NO ÚLTIMO TRIMESTRE DO ANO.

EM 2018, O ANIVERSÁRIO DELA FOI NA QUARTA SEXTA-FEIRA DO MÊS, E O DIA SEGUINTE FOI O QUINTO SÁBADO DO MÊS.

OBSERVE O CALENDÁRIO A SEGUIR.

OUTUBRO 2018							NOVEMBRO 2018							DEZEMBRO 2018						
SEG	TER	QUA	QUI	SEX	SAB	DOM	SEG	TER	QUA	QUI	SEX	SAB	DOM	SEG	TER	QUA	QUI	SEX	SAB	DOM
01	02	03	04	05	06	07				01	02	03	04						01	02
08	09	10	11	12	13	14	05	06	07	08	09	10	11	03	04	05	06	07	08	09
15	16	17	18	19	20	21	12	13	14	15	16	17	18	10	11	12	13	14	15	16
22	23	24	25	26	27	28	19	20	21	22	23	24	25	17	18	19	20	21	22	23
29	30	31					26	27	28	29	30			24	25	26	27	28	29	30
														31						

DE ACORDO COM ESSAS INFORMAÇÕES, DETERMINE O MÊS E O DIA DO ANIVERSÁRIO DE CAMILA.

.....

.....

8. CARLOS ESTAVA ESTUDANDO FIGURAS GEOMÉTRICAS NA ESCOLA. CHEGANDO EM CASA, OBSERVOU QUE ALGUNS DE SEUS BRINQUEDOS APRESENTAVAM FORMAS SEMELHANTES ÀS APRENDIDAS EM SALA. VEJA AS FIGURAS A SEGUIR.



GD_PROJECT/SHUTTERSTOCK
WINSTON LINK/SHUTTERSTOCK

QUAIS SÃO OS NOMES DAS FIGURAS GEOMÉTRICAS QUE SÃO SEMELHANTES AOS BRINQUEDOS DE CARLOS?

.....

.....

9. A PROFESSORA PEDIU AOS ALUNOS QUE SE ORGANIZASSEM EM FILA.



PROSTOCKSTUDIO/
SHUTTERSTOCK


QUANTOS ALUNOS ESTÃO ATRÁS DO MENINO DE TOUCA?

.....

.....

.....

10. LUCAS FEZ UM PAINEL EM SEU QUARTO CONTENDO 4 TIPOS DE FIGURAS GEOMÉTRICAS.



TARTILA/SHUTTERSTOCK

A) QUAIS SÃO OS NOMES DAS 4 FIGURAS GEOMÉTRICAS NO QUADRO DO LUCAS?

.....

B) QUAL É A QUANTIDADE DE CADA FIGURA GEOMÉTRICA?

.....