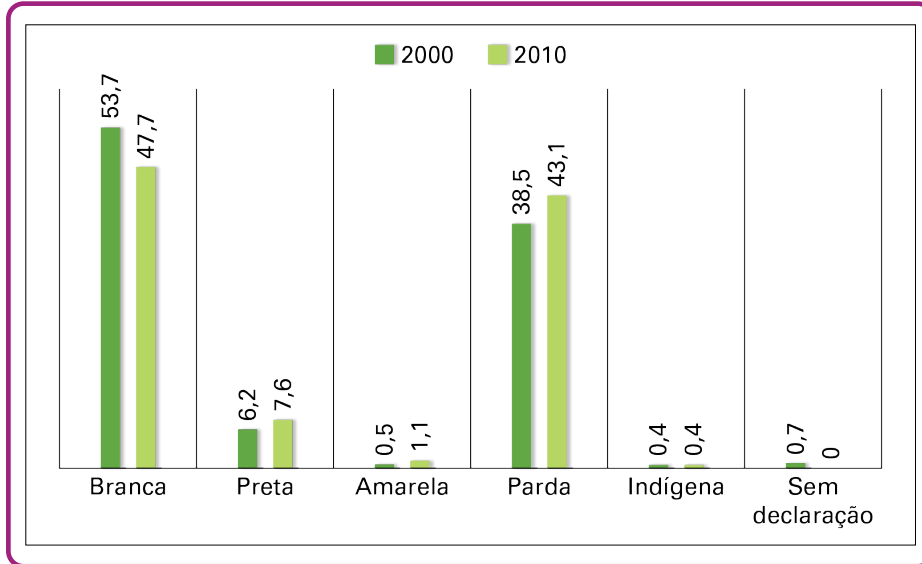


Escola: _____

Nome: _____

Turma: _____ Nº: _____

1.



Observando os dados contidos no gráfico, responda: houve crescimento ou diminuição da população brasileira entre os anos de 2000 e 2010?

2. Leia o texto abaixo.

Estudo revela 60 anos de transformações sociais no país

Entre os Censos de 1940 e 2000, a população brasileira cresceu quatro vezes. O Brasil rural tornou-se urbano (31,3% para 81,2% de taxa de urbanização). Nesse período, houve o envelhecimento da população brasileira, que na faixa de 15 a 59 anos, aumentou.

Disponível em: <<https://agenciadenoticias.ibge.gov.br/agencia-noticias/2013-agencia-de-noticias/releases/13300-asi-estudo-revela-60-anos-de-transformacoes-sociais-no-pais.html>>. Acesso em: 15 jul. 2018.

Com base no texto e no estudo sobre a população, responda às seguintes perguntas.

A) O que é um censo?

.....

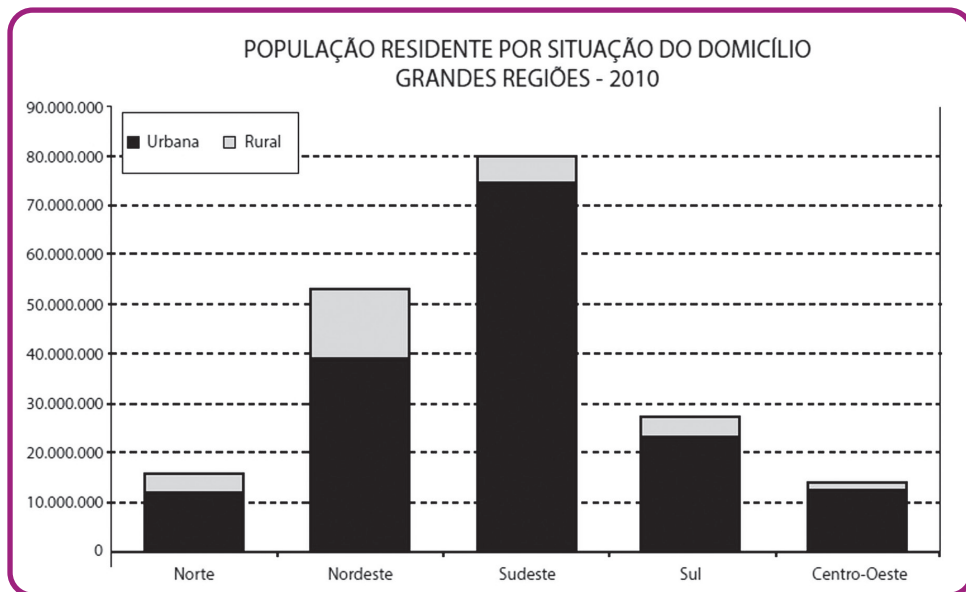
.....

B) Cite algumas informações que podemos obter por meio de um censo.

.....

.....

3. Observe a imagem abaixo.



Reprodução/IBGE - Instituto Brasileiro de Geografia e Estatística

Qual população, rural ou urbana, representa a maior quantidade na distribuição da população brasileira na atualidade?

.....

.....

.....

4. Observe a imagem.



Rawpixel.com

Qual é a relação da imagem com a formação do povo brasileiro?


.....

.....

.....

5.

IMAGEM I



Yago Marcelo/Wikipedia/
Wikimedia Commons

IMAGEM II



Luiz Gonzaga DE SOUZA/
Pixabay/pixabay.com

A) Quais são as diferenças entre os espaços representados nas imagens?

.....

.....

B) Quais são os problemas sociais dos espaços representados nas imagens?

.....

.....

6. Observe o mapa do Brasil com a divisão em regiões administrativas.



Preencha a legenda, usando as seguintes cores:

- azul: Sul
- amarelo: Sudeste
- roxo: Centro-Oeste
- laranja: Nordeste
- verde: Norte

7. Escreva o nome da(s) região(ões):

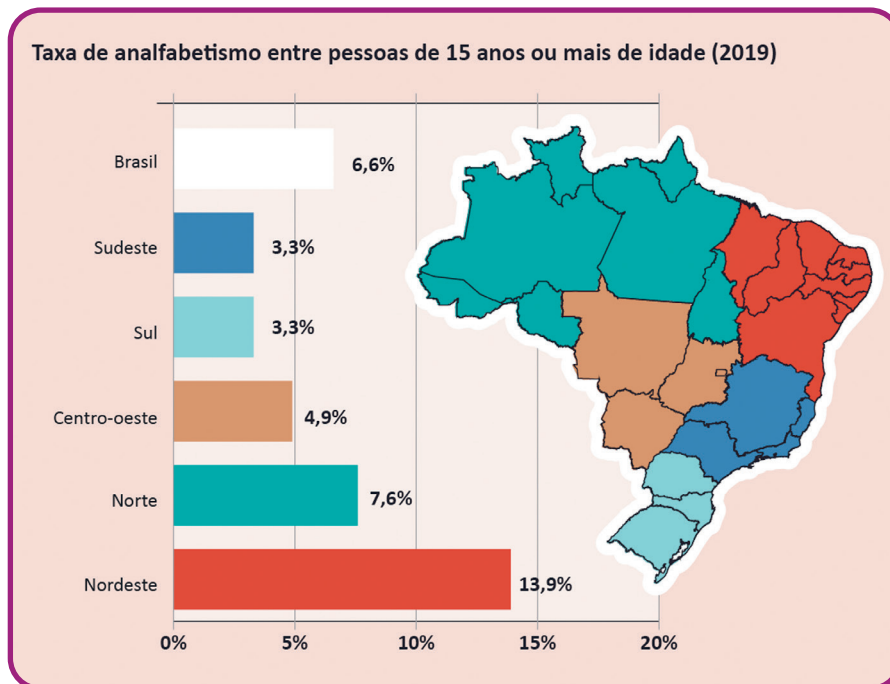
A) Com maior número de habitantes.

.....

B) Com menor número de habitantes.

.....

8. O Brasil enfrenta problemas para contornar o analfabetismo e, assim, alavancar o crescimento de seu IDH (Índice de Desenvolvimento Humano). Veja o infográfico sobre o assunto, segundo pesquisa de 2019.



Julgue com **V** (se verdadeira) ou **F** (se falsa) cada uma das afirmativas a seguir. Justifique as afirmativas falsas.

A) () As regiões Sul e Sudeste têm mais analfabetos do que as demais do país.

.....

.....

.....

B) () A região Nordeste apresenta o maior número de analfabetos, aproximadamente quatro vezes maior do que as taxas estimadas para as regiões Sudeste e Sul (ambas com 3,3%).

.....

.....

.....

C) () O número de analfabetos na região Norte não chega a 10% .

.....

.....

.....

D) () A região Centro-Oeste tem aproximadamente 8% de analfabetos.

.....

.....

.....

E) () Os estados da região Sul apresentam índices piores do que os da região Sudeste.

.....

.....

.....

9. Seu Carlos vive na região Sul. Ele conhece bem os estados que a compõem e conhece vários aspectos da região. A quadrinha abaixo caracteriza a região Sul.

*O gaúcho vive nos pampas,
Nas serras, alemães e italianos.
Chimarrão e clima frio
É também dos curitibanos.*

A) Reescreva as palavras que caracterizam essa região.

.....

.....

B) Complete adequadamente o quadro:

Atividades econômicas muito importantes na região Sul:	
São produtores nacionais de:	
Os grupos de imigrantes mais significativos da região:	
Estados e capitais:	

10. Escreva nas lacunas os nomes dos estados que completam o trecho coerentemente.

Na próxima semana, seu Carlos vai fazer uma longa viagem de carro pelo Brasil. Para chegar até o seu destino, ele passará pela região Sudeste e atravessará o estado de, o mais populoso dessa região. Conhecerá também várias cidades do maior estado do Sudeste, que é