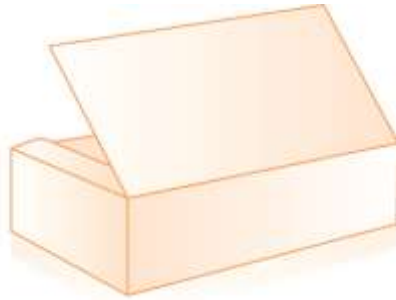


# APOSTILA 2 DE MATEMÁTICA


1. OBSERVE A CAIXA QUE MARCELA GANHOU PARA GUARDAR ALGUNS OBJETOS.



A TAMPA DESSA CAIXA TEM A FORMA DE QUAL FIGURA GEOMÉTRICA PLANA?

- A) REGIÃO CIRCULAR.
  - B) REGIÃO QUADRADA.
  - C) REGIÃO RETANGULAR.
  - D) REGIÃO TRIANGULAR.
2. GABRIEL PARTICIPOU DE UM CAMPEONATO DE NATAÇÃO NO DIA 2 DE JULHO. ELE PARTICIPOU DE OUTRO CAMPEONATO EXATAMENTE 3 SEMANAS DEPOIS. EM QUAL DATA OCORREU O 2º CAMPEONATO?
- A) 16 DE JULHO.
  - B) 23 DE JULHO.
  - C) 21 DE JULHO.
  - D) 5 DE JULHO.

3. CAROLINA DESENHOU ALGUMAS FIGURAS GEOMÉTRICAS EM CARTELAS. VEJA.

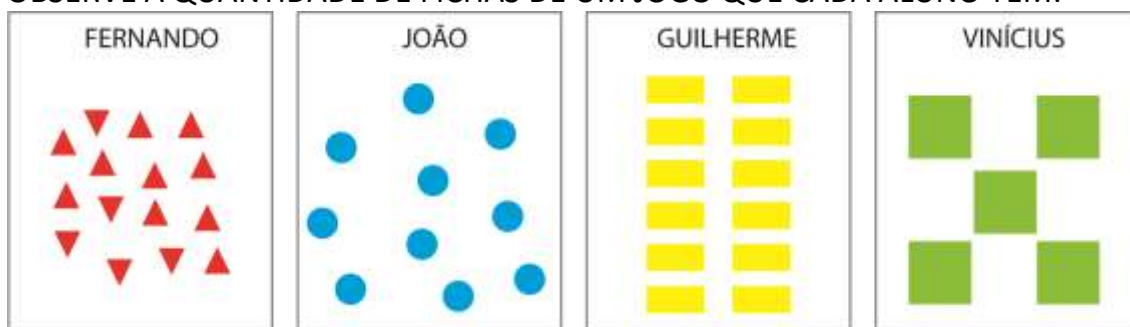


SEM OLHAR, CAROLINA SORTEOU UMA DESSAS CARTELAS. ELA PODE TER SORTEADO UMA CARTELA COM UMA REGIÃO PLANA CIRCULAR?

- A) É IMPOSSÍVEL.
- B) É POUCO PROVÁVEL.
- C) É CERTEZA.
- D) É BASTANTE PROVÁVEL.




6. OBSERVE A QUANTIDADE DE FICHAS DE UM JOGO QUE CADA ALUNO TEM.



FERNANDO E JOÃO JUNTARAM AS FICHAS DELES. VINÍCIUS E GUILHERME TAMBÉM JUNTARAM AS FICHAS. QUEM FICOU COM MAIS FICHAS: FERNANDO E JOÃO OU VINÍCIUS E GUILHERME?

---

7. FREDERICO TINHA 18 PEIXINHOS NO AQUÁRIO.



ELE GANHOU OUTROS 11 PEIXINHOS DO PAI DELE PARA COLOCAR NO AQUÁRIO. QUAL OPERAÇÃO FREDERICO DEVE EFETUAR PARA CALCULAR COM QUANTOS PEIXINHOS ELE FICOU?

---

8. CLÁUDIO E O PAI DELE FORAM A UMA PADARIA E COMPRARAM 2 PÃES. VEJA O PREÇO DE CADA PÃO NA VITRINE.



ELES PAGARAM COM 1 NOTA DE R\$ 10,00 E RECEBERAM R\$ 5,00 DE TROCO.  
QUAIS PÃES ELES COMPRARAM?

---

9. VEJA NESTE GRÁFICO A QUANTIDADE DE AGASALHOS QUE UMA ESCOLA ARRECADOU DURANTE ALGUNS MESES.



QUANTOS AGASALHOS FORAM ARRECADADOS NO TOTAL EM MARÇO E JUNHO?

---

10. OBSERVE ESTE CALENDÁRIO.

OUTUBRO – 2017						
S	T	Q	Q	S	S	D
						1
2	3	4	5	6	7	8
9	10	11	12	13	14	15
16	17	18	19	20	21	22
23	24	25	26	27	28	29
30	31					

RAQUEL VIAJOU NA 3ª SEGUNDA-FEIRA DESSE MÊS DE OUTUBRO E RETORNOU NO ÚLTIMO SÁBADO DO MÊS.

POR QUANTOS DIAS RAQUEL VIAJOU, INCLUINDO ESSES 2 DIAS?

---

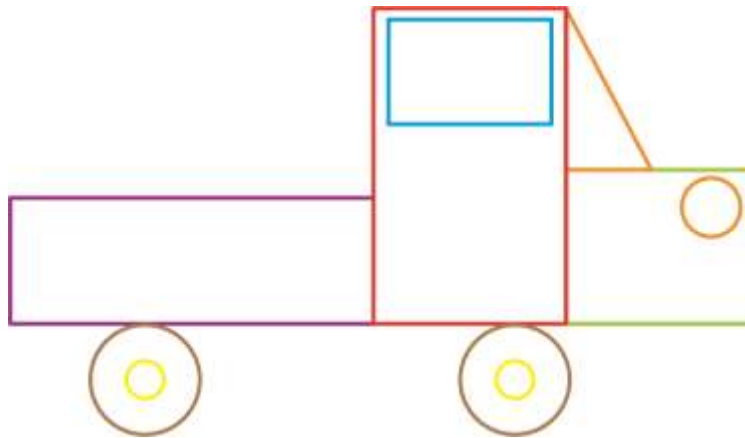
11. MARCOS TEM UM BRINQUEDO IGUAL A ESTE.



ESSE BRINQUEDO TEM A FORMA DE QUAL SÓLIDO GEOMÉTRICO?

- A) BOLA.
- B) CÍRCULO.
- C) CIRCUNFERÊNCIA.
- D) ESFERA.

12. ANDRÉ DESENHO UM CARRO UTILIZANDO FIGURAS GEOMÉTRICAS PLANAS.




QUAIS FIGURAS GEOMÉTRICAS ANDRÉ UTILIZOU NESTE DESENHO?

---

---

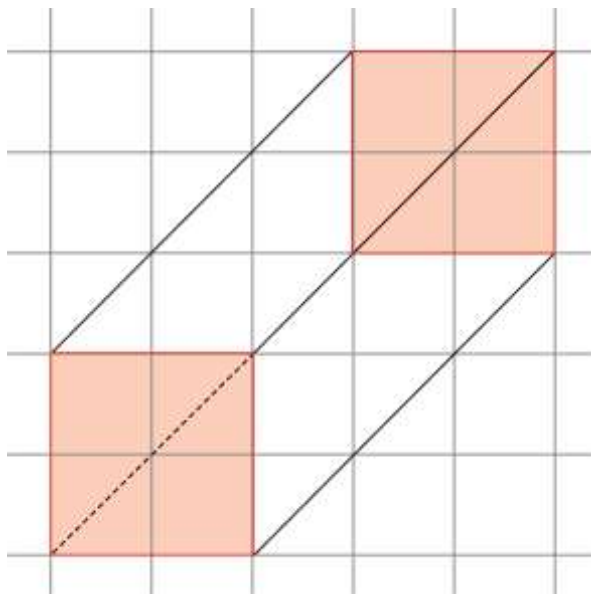
13. FERNANDA MONTOU O DESENHO DE UM CACHORRO UTILIZANDO RECORTES COM A FORMA DE FIGURAS GEOMÉTRICAS PLANAS. VEJA:



QUAL DAS FORMAS CITADAS NAS ALTERNATIVAS NÃO APARECE NOS RECORTES?

- A) FORMA RETANGULAR.
- B) FORMA QUADRADA.
- C) FORMA CIRCULAR.
- D) FORMA TRIANGULAR.

14. VITÓRIA DESENHOU UM SÓLIDO GEOMÉTRICO NESTA MALHA QUADRICULADA.



COMPLETE: AS FACES DESSE SÓLIDO GEOMÉTRICO QUE VITÓRIA COLORIU DE LARANJA TÊM A FORMA \_\_\_\_\_.

15. A MÃE DE GABRIELA COMPROU ESTE CHAPÉU PARA A FANTASIA DA FILHA.



SE CONTORNARMOS A BASE DESTE CHAPÉU, ENTÃO QUAL FIGURA GEOMÉTRICA PLANA VAMOS OBTER?

---