

ESCOLA MUNICIPAL NAGEN JORGE SAAD



NAGEN JORGE SAAD
Escola Municipal

AVALIAÇÃO DIAGNÓSTICA DE LÍNGUA PORTUGUESA, MATEMÁTICA E CIÊNCIAS

2020/2021

2º ANOS

ALUNO (A): _____

PROFESSORA: _____

TURMA: _____

ORIENTAÇÕES AOS PAIS E /OU RESPONSÁVEIS

Organização

Organize o espaço para a realização das avaliações e ofereça o material necessário para fazê-la, como lápis e borracha.

Nada de barulho

Desligue a televisão e o rádio e tente eliminar sons que possam atrapalhar a concentração.

Acompanhamento

Acompanhe com o aluno (a) a explicação das avaliações enviadas pelo professor (a) através de vídeos explicativos.

Não dê respostas

Se o seu filho (a) tiver alguma dúvida, ajude-o, mas não responda por ele (a)! O melhor é dar dicas para que pense e chegue a própria conclusão.

Esta é uma avaliação diagnóstica e não valerá nota. A mesma deverá ser devolvida e arquivada na escola para a retomada em 2021.



Data da entrega na escola: **24/11/2020**



ALUNO (A):

TURMA:

2º ANO:

PROFESSORA:

DATA: / /2020

Orientações:

- A AVALIAÇÃO DIAGNÓSTICA DEVE SER IMPRESSA, POIS A MESMA POSTERIORMENTE A SUA REALIZAÇÃO SERÁ ARQUIVADA NA ESCOLA.
- O ALUNO (A) DEVERÁ REALIZAR AVALIAÇÃO COM AUTONOMIA, OU SEJA, SEM AUXÍLIO DOS RESPONSÁVEIS.
- DEVERÁ ASSISTIR AO VÍDEO COM AS EXPLICAÇÕES PARA REALIZAÇÃO DA AVALIAÇÃO E QUAISQUER DÚVIDAS QUE POSSAM SURTIR, ENVIAR MENSAGEM PARA PROFESSORA.

AVALIAÇÃO DIAGNÓSTICA DE LÍNGUA PORTUGUESA

1- LEIA A CANÇÃO E RESPONDA:

A MENTIRA DA BARATA

A BARATA DIZ QUE TEM
SETE SAIAS DE FILÓ!
É MENTIRA DA BARATA
ELA TEM É UMA SÓ!

A BARATA DIZ QUE TEM
UM ANEL DE FORMATURA!
É MENTIRA DA BARATA
ELA TEM É CASCA DURA!

A BARATA DIZ QUE TEM
UM SAPATO DE VELUDO
É MENTIRA DA BARATA
O PÉ DELA É PELUDO!



CANTIGA POPULAR

A- QUAL É O TÍTULO DA CANTIGA?

B- QUEM É A PERSONAGEM PRINCIPAL?

C- PINTE O QUE A BARATA DIZ QUE TEM DE ACORDO COM O TEXTO ACIMA:

SAIA	BATOM	ANEL	PANELA	SAPATO	MEIA
------	-------	------	--------	--------	------

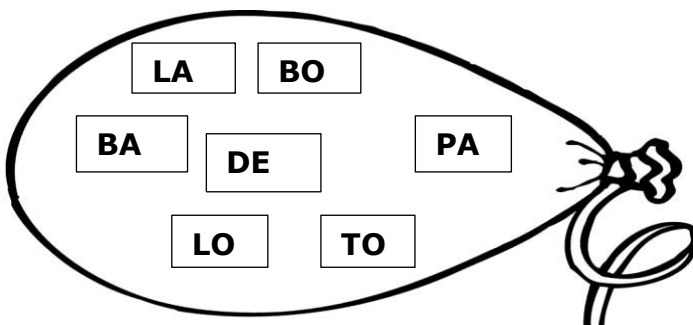
2- LEIA AS PALAVRAS E COMPLETE O QUADRO:

PALAVRA	QUANTAS LETRAS	QUANTAS SÍLABAS	VOGAIS	CONSOANTES
BARATA				
SAPATO				
PELUDO				

3- LEIA O TEXTO E COPIE AS PALAVRAS QUE RIMAM COM AS PALAVRAS ABAIXO. LEMBRANDO QUE AS PALAVRAS QUE RIMAM TERMINAM COM O MESMO SOM.

FILO	
FORMATURA	
VELUDO	

4- FORME 4 PALAVRAS COM AS SÍLABAS QUE ESTÃO DENTRO DO BALÃO.



5- FAÇA UM (X) NO QUADRADINHO ONDE ESTÁ ESCRITA A MESMA PALAVRA QUATRO VEZES.

barata
BARATA
BARATA
barata

VELUDO
veludo
peludo
VELUDO

careca
CARETA
CARECA
careca

6- ESCREVA O NOME DAS FIGURAS DEPOIS REESCREVA EM ORDEM ALFABÉTICA NA TABELA.





7- LEIA A FRASE E SEPRE AS PALAVRAS POR UM TRAÇO (\) E REESCREVA A FRASE CORRETAMENTE.

ABARATADIZQUETEMUMANELDEFORMATURA.

8- OBSERVE A CENA E ESCREVA UMA FRASE. CAPRICHE!





ALUNO (A):

TURMA:

2º ANO:

PROFESSORA:


DATA: / /2020

Orientações:

- A AVALIAÇÃO DIAGNÓSTICA DEVE SER IMPRESSA, POIS A MESMA POSTERIORMENTE A SUA REALIZAÇÃO SERÁ ARQUIVADA NA ESCOLA.
- O ALUNO (A) DEVERÁ REALIZAR AVALIAÇÃO COM AUTONOMIA, OU SEJA, SEM AUXÍLIO DOS RESPONSÁVEIS.
- DEVERÁ ASSISTIR AO VÍDEO COM AS EXPLICAÇÕES PARA REALIZAÇÃO DA AVALIAÇÃO E QUAISQUER DÚVIDAS QUE POSSAM SURTIR ENVIAR MENSAGEM PARA PROFESSORA.

AVALIAÇÃO DIAGNÓSTICA DE MATEMÁTICA

1- OBSERVE OS PORQUINHOS QUE FERNANDA FOI VER EM PEQUENOS CERCADOS, NO DESENHO ABAIXO E RESPONDA.



A- QUANTOS PORQUINHOS ELA VIU? _____

B- ENQUANTO ELA ESTAVA LÁ, SEU AVÔ TROUXE MAIS 4 PORQUINHOS. QUANTOS PORQUINHOS TÊM AGORA?

2- COMPLETE A TABELA NUMÉRICA COM OS NÚMEROS FALTOSOS.

1										10
										20
										30
										40
										50
										60
										70
										80
										90
										100

3- ESCREVA O ANTECESSOR DOS NÚMEROS ABAIXO:

70

59

97

100

AGORA ESCREVA O SUCESSOR DOS NÚMEROS ABAIXO.

99

79

54

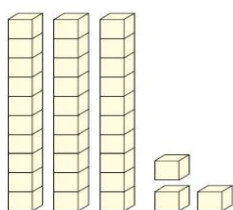
60

4- COLOQUE OS NUMERAIS NA ORDEM CRESCENTE:

34 - 56 - 95 - 28 - 44 - 71 - 10 - 63 - 87

--	--	--	--	--	--	--	--	--

5- OBSERVE A QUANTIDADE QUE CAMILA SEPAROU COM O MATERIAL DOURADO. AGORA, REPRESENTE NO ÁBACO ESSA MESMA QUANTIDADE E ESCREVA QUAL É O NÚMERO.



O NÚMERO É=

6- OBSERVE O NÚMERO: **68**

ESSE NÚMERO PODE SER DECOMPOSTO DA FORMA:

() 6 + 8

() 60+8

() 60+80

() 80+6

7- CONTE AS CÉDULAS E MOEDAS E ESCREVA QUANTO CADA CRIANÇA TEM EM DINHEIRO.



R\$



R\$



QUEM POSSUI UMA QUANTIA MAIOR EM DINHEIRO? O MENINO OU A MENINA?

8- LEIA OS SINAIS E RESOLVA AS CONTINHAS.

	D	U
+	5	6
	2	3

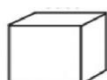
	D	U
+	1	2
	7	1

	D	U
-	2	9
	1	5

	D	U
-	9	6
	3	4

9- UTILIZE AS PALAVRAS ABAIXO E NOMEIE OS SÓLIDOS GEOMÉTRICOS:

CONE- CILINDRO- ESFERA- CUBO



--	--	--	--



ALUNO (A):

TURMA:

2º ANO:

PROFESSORA:

DATA: / /2020

Orientações:

- A AVALIAÇÃO DIAGNÓSTICA DEVE SER IMPRESSA, POIS A MESMA POSTERIORMENTE A SUA REALIZAÇÃO SERÁ ARQUIVADA NA ESCOLA.
- O ALUNO (A) DEVERÁ REALIZAR AVALIAÇÃO COM AUTONOMIA, OU SEJA, SEM AUXÍLIO DOS RESPONSÁVEIS.
- DEVERÁ ASSISTIR AO VÍDEO COM AS EXPLICAÇÕES PARA REALIZAÇÃO DA AVALIAÇÃO E QUAISQUER DÚVIDAS QUE POSSAM SURGIR, ENVIAR MENSAGEM PARA PROFESSORA.


AVALIAÇÃO DIAGNÓSTICA DE CIÊNCIAS

A importância do Sol

O SOL É UMA ESTRELA. E É A ESTRELA MAIS PRÓXIMA DE NÓS. SEM ELE NÃO EXISTIRIA VIDA NA TERRA.

TODOS OS SERES VIVOS NECESSITAM DA LUZ E DO CALOR DO SOL PARA SOBREVIVER. OS RAIOS SOLARES CONTÉM VITAMINA D, QUE É MUITO IMPORTANTE PARA NÓS.

COM O SOL, AS PLANTAS REALIZAM A FOTOSÍNTESE E ASSIM CONSEGUEM VIVER. OS ANIMAIS TAMBÉM NECESSITAM DO SOL PARA SUA SOBREVIVÊNCIA.



©antrinhodafiaage.ssj

LEIA O TEXTO E RESPONDA A QUESTÃO:

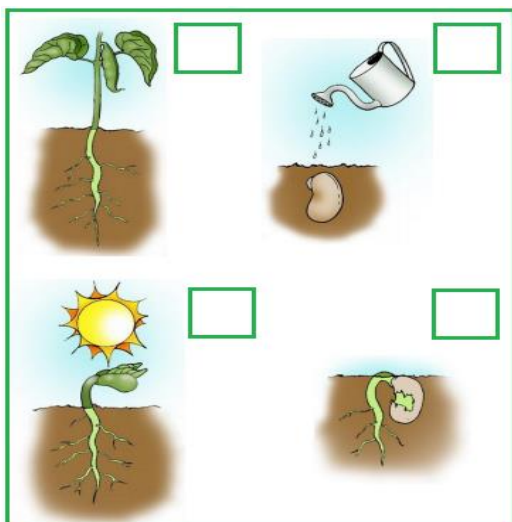
1- MARQUE UM (X) NAS ALTERNATIVAS CORRETAS SOBRE O SOL:

() É UMA ESTRELA () É MUITO QUENTE

() É MUITO FRIO () TEM VITAMINA D

O SOL É IMPORTANTE PARA TODOS OS SERES VIVOS. AS PLANTAS SÃO SERES VIVOS E TODO SER VIVO TEM UM CICLO DE VIDA.

2- ENUMERE ABAIXO A SEQUÊNCIA CORRETA. DEPOIS ENCONTRE NO CAÇA-PALAVRAS AS PARTES DAS PLANTAS EM DESTAQUE E ESCREVA NO LUGAR CORRETO:



CA	U	L	E	G	K	M	R	L	P	E	
H	B	F	L	O	R	L	A	Z	X	L	T
O	H	F	G	T	R	A	I	Z	A	E	L
J	A	Z	H	F	R	U	T	O	C	B	H
N	O	H	N	B	F	O	L	H	A	X	L

RAIZ
FRUTO
CAULE
FLOR
FOLHA

3- OS ANIMAIS TAMBÉM SÃO SERES VIVOS. CONFORME ESTUDAMOS, VIMOS QUE ELES POSSUEM VÁRIAS CARACTERÍSTICAS. ESCREVA ABAIXO AS CARACTERÍSTICAS DE CADA ANIMAL:

ANIMAL	NASCEM DE OVOS OU DA BARRIGA DA MÃE.	DOMÉSTICO OU SILVESTRE	COBERTURA DO CORPO
JACARÉ			
CACHORRO			
PAVÃO			

4- CITE ALGUNS ACIDENTES DOMÉSTICOS QUE PODEM OCORRER CASO NÃO TOMEMOS CUIDADO:

5- MARQUE COM UM (X) DO QUE É FEITO CADA OBJETO:

- A) FOLHAS DO CADERNO:** () PLÁSTICO () PAPEL () METAL () VIDRO () TECIDO
- B) VESTIDO:** () PLÁSTICO () PAPEL () METAL () VIDRO () TECIDO